

HỌ VÀ TÊN HỌC SINH: ..... ..... NGÀY SINH: ..... NƠI SINH: ..... HỌC SINH TRƯỞNG: .....		KỲ KHẢO SÁT TUYỂN SINH LỚP 6 THPT TRẦN ĐẠI NGHĨA NĂM HỌC 2019- 2020 Hội đồng khảo sát: ..... Phòng số: .....		SỐ CỦA MỖI BÀI từ 1 đến 30 do Giám thị ghi	

LỜI DẶN HỌC SINH SỐ PHÁCH 1. Ghi đầy đủ các mục ở trên. Giám khảo số 2 do Chủ tịch 2. Không dùng bất cứ ký hiệu nào để đánh dấu bài.			Họ, tên và chữ ký  Giám khảo số 1
Hội đồng chấm 3. Viết bằng một loại bút, mực; không dùng bút chì, mực đỏ; viết hồng phải gạch bỏ, không dùng bút LỜI GHI CỦA GIÁM KHẢO			ghi  xoá. SỐ CỦA MỖI BÀI
	Điểm bài	khảo sát	

### BÀI KHẢO SÁT SỐ 2 (Ngày 12/6/2019)

Thời gian làm bài: 45 phút (không kể thời gian phát đề)

HỌC SINH LÀM BÀI (GỒM 8 CÂU) VÀO BÀI KHẢO SÁT NÀY

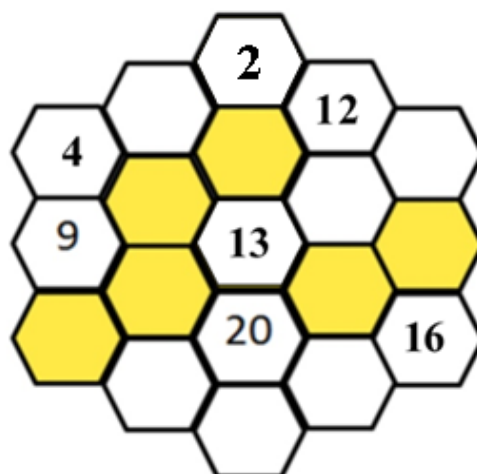
**Question** (6 points ) Tick (✓) the correct box.

Statements	ISSUES	DO'S	DONT'S
Water is the right of your people.			
Let's drink water from any sources for good health!			
People should use underground water as much as possible.			
Billions of people have not had access to safe water.			
Cut down on the use of plastic bottles for drinks.			
Let's turn seawater into fresh water!			

**Question 2.** (6 points) The following 19 hexagons contain numbers from 2 to 20. Fill in the blank spaces with numbers according to these rules:

(1) The difference of the 2 numbers on 2 adjacent hexagons is greater than 4;

(2) Numbers in darker spaces can only be: 3, 5, 7, 11, 17, 19.



**Question 3.** (6 points) The retail prices posed by EVN was March 20, 2019

Rate 1: from 0 to 50 kWh

Rate 2: from 51 to 100 kWh

Rate 3: from 101 to 200 kWh

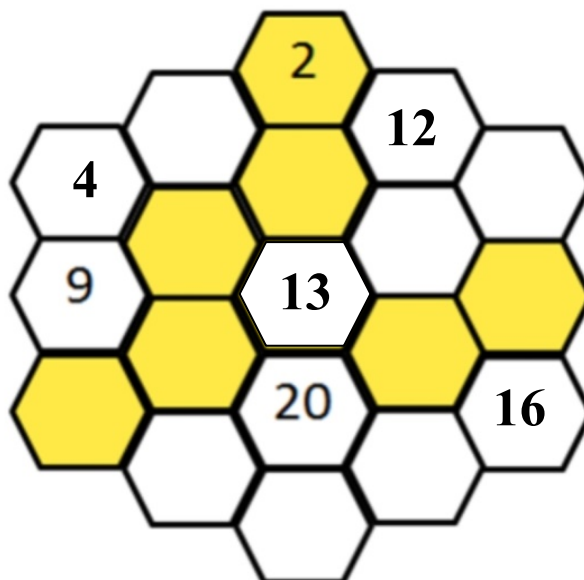
Rate 4: from 201 to 300 kWh

Rate 5: from 301 to 400 kWh

Rate 6: from 401 kWh and above

a. In May 2019, the total electricity consumption of Binh's family was 130 kWh. In May, how much did Binh have to pay for electricity?

b. Also in May, Chau had to pay 200,000 VND for electricity. Knowing that the electricity consumption of Chau's family in May?



retail prices posed

Wh. In May, how

electricity. Knowing was the electricity

Your calculations: .....

.....

.....

.....

.....

.....

.....

.....

.....

Results: a.

b.

**Question 4.** (6 points) The World Water Day (March 22, 2019) aims to address the water crisis to the public by giving the reason why so many people do not have clean water. Specific goals of the 2019 World Water Day Theme include: "...Water for women; Water for work and production; Water for rural areas; Water for mothers; Water for children; Water for students; minorities; Water for people with disabilities ..."

(Extracted from [www.worldwaterday.org](http://www.worldwaterday.org))

From the information above, write a slogan (between 5 and 15 words) that matches the 2019 World Water Day Theme.

.....

.....

.....

.....

.....

.....

**Question 5.** (6 points) The odd numbers 1, 3, 5, 7, ..., 2019 are filled in the four columns of the following table. Which column is 2019 in?

A	B	C	D
1	3	5	7
9	11	13	15
17	19	..	..
..	..	..	..
...			

**Column** \_\_\_\_\_

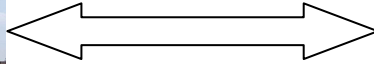
**Question 6.** (6 points) There are the names of 6 animals hidden in the following word chart in either vertical, horizontal or diagonal lines. Find these animals and write their names down.

A	S	K	U	N	T	D	X	E	T	G	Y
H	F	D	Z	B	U	F	F	A	L	O	A
B	D	X	R	T	A	V	Z	B	F	E	S
C	L	N	C	A	K	A	G	E	L	R	W
V	Y	C	B	A	G	P	V	G	D	A	S
H	K	D	X	A	M	O	A	B	J	F	T
M	Z	S	B	H	N	E	N	A	L	H	C
S	E	A	L	A	F	C	L	K	Y	R	O
O	S	R	N	E	A	I	V	M	K	D	T
R	A	W	A	L	R	U	S	H	E	A	B
X	Z	D	F	A	F	T	M	E	X	W	O

1. ....
2. ....
3. ....
4. ....
5. ....
6. ....

P	C	N	V	B	H	K	J	M	G	E	Y
---	---	---	---	---	---	---	---	---	---	---	---

**Question 7.** (6 points)



Thanh departed from Hồ Chí Minh City to Biên Hòa. After 5 minutes, Minh departed from Biên Hòa to Hồ Chí Minh City. After going 15km, Minh met Thanh. What is Minh's speed? Knowing that Minh's speed is  $\frac{3}{4}$  Thanh's speed.

Your calculations: .....

.....

.....

.....

.....

Result:

**Question 8.** (6 points) Read the poem below, fill in the blanks (A, B, C and D) with the suitable place names of Hồ Chí Minh City.

***Thành phố em yêu*** (Tác giả: Thành Tâm)

Bên bờ sông \_\_\_\_ (A)  
 Có bến tàu lịch sử  
 Nơi Bác Hồ ra đi  
 Tìm con đường cứu nước.

Biển Cần Giờ sóng vỗ  
 Có chiến khu \_\_\_\_ (B)  
 Có rừng đước bạt ngàn  
 Chở che chủ bộ đội.

Phía Tây Bắc thành phố  
 Có một “vùng đất thép”  
 Được lịch sử khắc ghi  
 Là \_\_\_\_ \_\_\_\_ \_\_\_\_ \_\_\_\_ (C)

Giữa công viên xanh rì  
 Có hội trường \_\_\_\_ \_\_\_\_ (D)  
 Có niềm vui chất ngất  
 Ngày Ba mươi tháng Tư  
 Ngày giải phóng Thành phố!

*Ôi Thành phố em yêu!  
Những địa danh anh hùng...*

*Những mốc son lịch sử...*

*A: \_\_\_\_\_ B: \_\_\_\_\_*

*C: \_\_\_\_\_ D: \_\_\_\_\_*

***THE END***